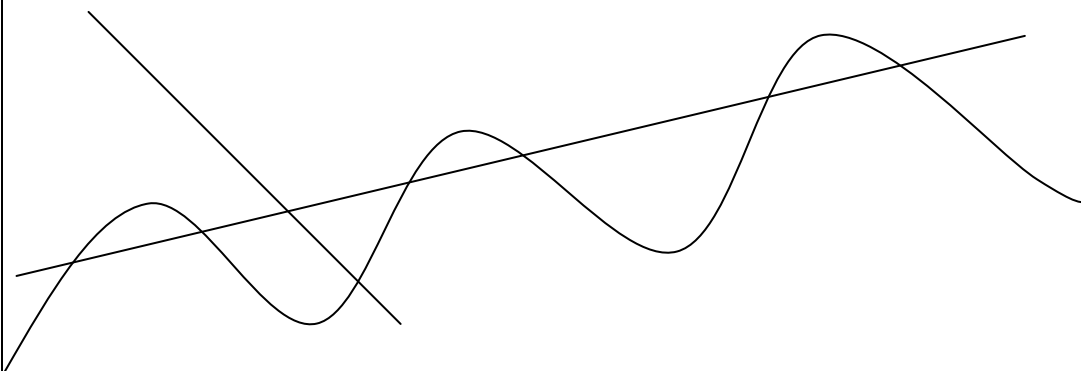


1. СВЕ ПРАВЕ ЛИНИЈЕ ПОДЕБЉАЈ ПЛАВОМ, А КРИВЕ ЦРВЕНОМ БОЈОМ.



2. ОЗНАЧИ СВА МЕСТА ГДЕ СЕ СЕКУ ЛИНИЈЕ.

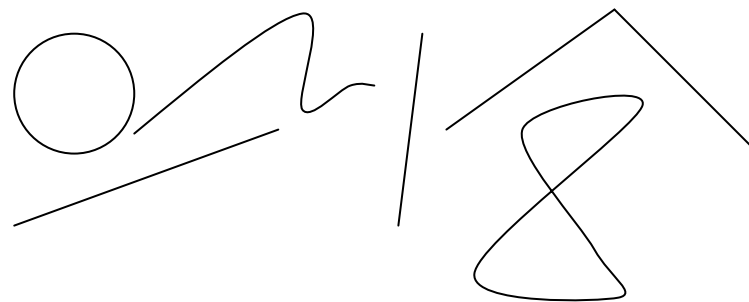


3. НАЦРТАЈ ДВЕ ПРАВЕ ЛИНИЈЕ КОЈЕ ПРОЛАЗЕ КРОЗ ТАЧКУ **О** И ТРИ КРИВЕ ЛИНИЈЕ КОЈЕ ПРОЛАЗЕ КРОЗ ТАЧКУ **Т**.

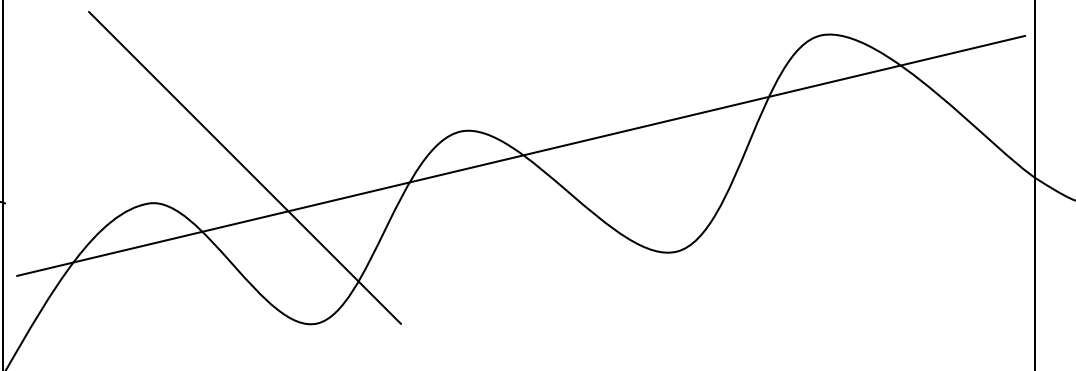
О ●

● Т

1. СВЕ ПРАВЕ ЛИНИЈЕ ПОДЕБЉАЈ ПЛАВОМ, А КРИВЕ ЦРВЕНОМ БОЈОМ.



2. ОЗНАЧИ СВА МЕСТА ГДЕ СЕ СЕКУ ЛИНИЈЕ.



3. НАЦРТАЈ ДВЕ ПРАВЕ ЛИНИЈЕ КОЈЕ ПРОЛАЗЕ КРОЗ ТАЧКУ **О** И ТРИ КРИВЕ ЛИНИЈЕ КОЈЕ ПРОЛАЗЕ КРОЗ ТАЧКУ **Т**.

О ●

● Т

