



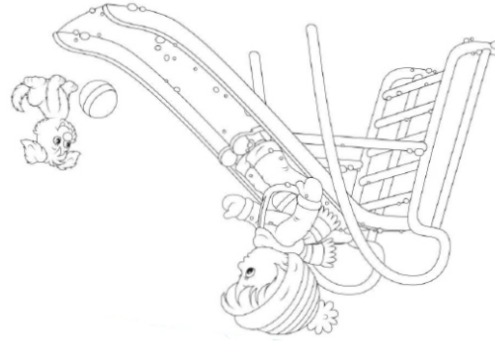
7. Јана је набрала 26 листова, Ванја 17 више од Јане, а Ема 19 мање од Ване. Колико укупно листова имајуове де-војчице?



1. Израчунај:
 $56+28=$
 $49+43=$
 $61-39=$
 $75-56=$



2. Одреди вредност израза:
 а) $29 + (52 - 28) =$
 б) $71 - (36 + 19) =$



6. Јасна је набрала 34 јагоде и за 19 мање купина. Колико је убрала купина а колико укупно воћки?

СВАКО ДЕТЕ СРЕЋНОГ ЛИЦА
 ЧУВА ЈЕДНА ПОРОДИЦА



Укупно: /22

Тематски дан:
Дан детета



ucitejicadaniela.weebly.com

име детета



3. Разлици бројева 64 и 37 додај 28.

4. Од збира бројева 29 и 85 одузми 38.



5. Маја има 34 поена а Марко за 19 више. Колико поена има Марко?